

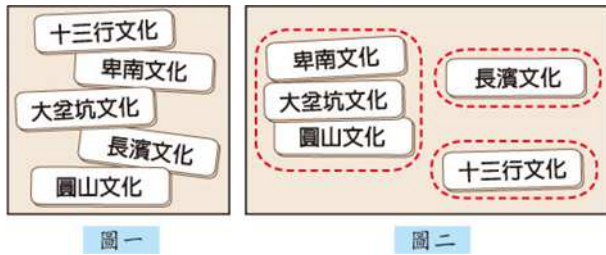
二林高中 114 學年度上學期社會領域補考題庫 (國中部 1 年級)

班級：\_\_\_ 座號：\_\_\_ 姓名：\_\_\_

只要歷史、地理、公民任一科不及格，都要複習三科題庫；並於補考時，完整作答歷史、地理、公民的題目。

二林高中 114 學年度第一學期 國一歷史補考題庫

1. (A) 鈞憶將圖一中的五張卡片分為圖二中的三類，其分類的依據最可能是下列何者？ (A)製作器物的技術 (B)文字發展的程度 (C)居住區域的位置 (D)使用貨幣的類型。



2. (D) 附表是某一組織的重要事件整理，根據內容判斷，下列何者最適合放入表中的「？」處？ (A)從印度輸出大量瓷器販賣至中國 (B)以白銀吸引中國商人至馬尼拉交易 (C)以澳門為據點，推動亞洲傳教事業 (D)設亞洲總部於巴達維亞，統籌經營。

重要事件
★成立於十七世紀初
★ ?
★曾在臺灣、南非好望角等地建立殖民地
★在日本鎖國時期，獲准與日本貿易

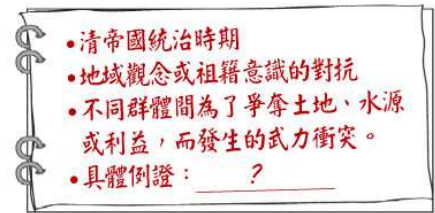
3. (B) 中古歐洲的基督教傳教士，會採用拉丁文(羅馬字)拼注異教徒的語言成文字，以教導異教徒閱讀聖經。在臺灣史上，有哪一國的基督教傳教士為方便向臺灣原住民傳教，也採取類似作法？ (A)西班牙 (B)荷蘭 (C)英國 (D)葡萄牙。

4. (D) 小立同學在瀏覽網頁時，看到了一篇報導：  
1871 年，琉球王國宮古島民的進貢船，因颱風漂流到臺灣東南海岸八瑤灣，54 人被牡丹社和高士佛社的排灣族人殺害，12 人逃出。3 年後，日本因此出兵臺灣，排灣族人憑藉石門隘口天險奮勇抵抗……。  
……將殺害琉球人的排灣族人塑造成野蠻民族，讓當地排灣族人多年來承受歷史上的汙名。

從文中內容判斷，此一事件應是下列何者？ (A)英法聯軍 (B)清法戰爭 (C)林爽文事件 (D)牡丹社事件。

5. (C) 請根據資料「本市港口在開港通商後，漸漸自漁港轉型為商港。1860 年代初期，正式開放成為國際貿易港，出口貨物以蔗糖為主。」的內容，判斷資料中的港口應為臺灣哪個港口？ (A)大稻埕 (B)淡水 (C) 打狗 (D)雞籠。
6. (D) 附圖描述臺灣史上某一時期的社會現象，圖中的「具體例證」，最適合填入下列何者？

- (A)地主與官府的對抗 (B)郊商與洋商的對抗 (C)士紳與傳教士的衝突 (D)漳州人與泉州人的衝突。



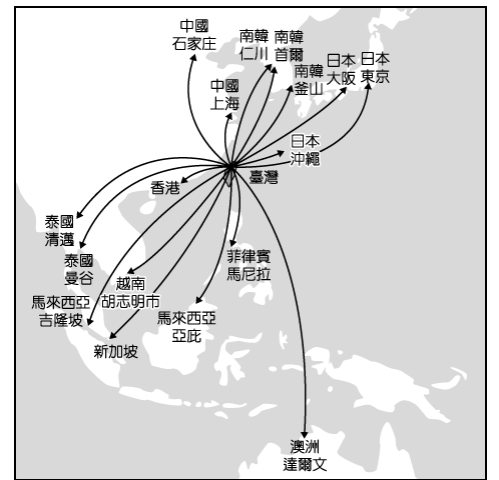
7. (A) 「蕭來於雍正晚年至彰化社頭一帶拓墾，死後留下公產 5 甲地，由他的兒子們輪流耕種，每一年由輪到耕種公田的人負責當年的祭祀費用。每年清明節前後，蕭家後代都會擇日掃墳，祭祀蕭來。」關於文中所述的蕭氏宗族，其祭祀對象應為下列何者？ (A)開臺祖 (B)唐山祖 (C)有應公 (D)媽祖。

二林高中 114 學年度第一學期 國一地理補考題庫

1. 婉清的旅遊日記寫著：「到了這裡下車後，映入眼中的是陡峭的山嶺與峭壁。我覺得呼吸困難和寒冷，使身體感到不舒適。」此時婉清所到的地點可能是下列哪種地形區？ (A)山地 (B)丘陵 (C)平原 (D)盆地。

2. 根據聯合國海洋法公約規定，各國擁有在其經濟海域內資源的使用權。臺灣因四面環海，島嶼眾多，擁有廣大的經濟海域，但因與鄰近國家的經濟海域重疊，經常有漁業上的糾紛。上文所述的鄰近國家不包含下列何者？ (A)中國 (B)南韓 (C)日本 (D)菲律賓。

3. 從臺灣出發飛往亞洲地區的重要都市，平均飛行時間為 2.55 小時，由此可見臺灣地理位置條件良好。由於近年來廉價航空的航班大幅成長，經過臺灣的航班增加，而政府可以向航空公司收取過境航路服務費(俗稱過路費)，民國 112 年收取的過境航路服務費高達新臺幣 18.9 億元。根據附圖的位置判斷，從臺灣出發的班機中，飛往下列哪個都市的飛行時間可能會最久？ (A)香港 (B)大阪 (C)達爾文 (D)胡志明市

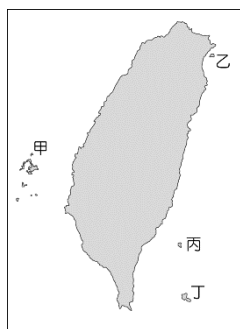


4. 臺灣地形景觀多元豐富，其中陽明山國家公園以火山地形聞名。造成陽明山國家公園擁有豐富地熱、溫泉的特色，與下列哪項因素最相關？ (A)四面環海 (B)地狹人稠 (C)地質年代久遠 (D)地處板塊接觸帶。

5. 臺灣的氣候受到緯度、地形、季風等因素的影響，各地的氣溫與降水特徵有極大差異，下列何者是關於高雄氣候的描述？ (A)因颱風來襲，明天放假一天 (B)天氣預報說未來一週高溫達 30 度以上 (C)今天下午下了一場西

北雨 (D)夏季炎熱多雨，冬季溫暖乾爽。

6. 諺語總是令人琅琅上口，增添生活趣味，雖然只有短短幾個字，但卻蘊含深深刻意義，不僅讓我們了解過去的社會經濟與歷史發展，部分諺語更是前人生活經驗累積下來的智慧。「臺灣走透透，龜山猶未到」，說明龜山島在開放觀光前給人的神祕感。龜山島位於附圖中哪個地方？ (A)甲 (B)乙 (C)丙 (D)丁。



7. 根據文獻資料顯示：「荷蘭人建造熱蘭遮城（今安平古堡）時，海浪就打在城堡邊；三百多年後的今日，安平古堡已距離海岸線有2公里遠。」請問：荷蘭人首次登陸時，他們看到的海岸景觀，與下列何者最為相似？

(A) (B)



(C) (D)



答案：ABCDDBC

二林高中114學年度第一學期 國一公民補考題庫

1. 團體生活中，我們應該關懷、接納每個人不同的特質與意見，並互相幫助，共創美好校園生活。若在學校目睹有同學受到霸凌，下列何種作為最能夠給予受害者適當的協助？

(A)幫助受害者一起回擊毆打加害者 (B)要求學校召開申訴評議委員會 (C)依《家庭暴力防治法》提告加害者 (D)勇於向老師以及家長報告請求幫忙。

2. 明明在原住民網站發現有歲時祭儀專區，裡面有原住民歲時祭儀放假日期的公告。只要具有原住民身分，持戶籍謄本或戶口名簿等足以證明身分的文件，就可以在本人、其父母或配偶所屬族別的歲時祭儀期間擇一日放假，該制

度的設計主要基於何種目的？

(A)幫助部落發展地方自治 (B)幫助部落達到生態平衡 (C)協助原住民族經濟建設 (D)協助原住民族文化傳承

3. 我國為保護民眾免於遭受家庭暴力的傷害，設置多項防治措施以因應。依照我國現行法律規定推論，下列與家暴防治的相關敘述，何者正確？

(A)受害者可以向社會局聲請保護令 (B)僅目睹而未遭暴力對待的兒少亦屬家暴受害者 (C)可依《家庭暴力防治法》停止施暴父母的親權 (D)可依《民法》的規定聲請保護令

4. 依據《民法》規定，父母對於已成年子女的責任為下列何者？

(A)扶養與教養 (B)保護與照顧 (C)提供經濟需求 (D)沒有任何責任

5. 請問跟自己的兄弟姐妹(同父母所生)之間的親屬關係為何？

(A)直系血親 (B)旁系血親 (C)直系姻親 (D)旁系姻親

6. 依據我國法律的規定，達到法定年齡，擁有權利承擔義務的人，特別是有權可以行使參政權的人民可以稱為下列何者？

(A)平民 (B)移民 (C)國民 (D)公民

7. 任何人皆有作為人的尊嚴，並受到國家尊重與保護，無論性別或年齡都具有相同價值，應獲得同樣重視。上述說明是指下列何種概念？

(A)人性尊嚴 (B)刻板印象 (C)廣義公民 (D)性別平等

答案: DDBBDA

[背面尚有題庫]