


二林高中 113 學年度下學期社會領域補考題庫 (國中部 2 年級)

班級：_____ 座號：_____ 姓名：_____

只要歷史、地理、公民任一科不及格，都要複習三科題庫；並於補考時，完整作答歷史、地理、公民的題目。

二林高中 113 學年度第二學期 國二歷史補考題庫

- (C) 1. 某書提及：「清廷想收回民間集資興建鐵路的權利，所以針對民間已投資者提出補償：在湖南、湖北，投資金額全數償還；在廣東，僅償還 60%，其餘 40% 由政府股票支付；在四川，政府僅發給股票。這種處置引起四川士紳激憤，朝廷為控制騷亂，將部分湖北軍隊調往四川。」上述情況最可能為下列何者的發生提供了機會？
(A) 自強運動 (B) 戊戌政變
(C) 武昌起事 (D) 義和團事變
- (A) 2. 中國近代史上某一時期，曾有教授和大學生主張以口語化的新文學取代舊式古典文學，並有意識地反對許多傳統觀念與習俗，將婦女從傳統束縛中解放出來。這樣的主張應出現於下列何時？ (A) 新文化運動 (B) 百日維新
(C) 立憲運動 (D) 自強運動
- (D) 3. 在某本以近現代中國為背景的小說中寫到：「最近，國家開始實施新政策，由政府指定中央、交通、中國這幾家銀行發行法幣。我想，此政策若真能好好實行，改善過去幣制混亂的情況，買賣交易就比較好做了。」這段話所呈現的最可能是中國處於下列何種局勢下的情況？ (A) 戊戌變法期間，朝廷推動經濟改革
(B) 八國聯軍結束，朝廷陸續推行新政
(C) 中華民國初創，政府收繳民間銀兩
(D) 北伐統一完成，政府致力建設發展
- (D) 4. 附圖是一幅宣傳海報，此宣傳海報最早可能在下列何時何地傳布？ (A) 1919~1930 年的臺北 (B) 1949~1960 年的臺北 (C) 1916~1928 年的瀋陽 (D) 1932~1945 年的瀋陽



- (B) 5. 學界雖對這項國際會議仍有討論，不過國民政府在會議上取得美國總統羅斯福的支持。遂於會議的次年，設立了臺灣調查委員會，進行接收臺灣的準備工作，這也是國民政府對臺政策轉趨積極的重要開端。請問：這項國際會議，最有可能是下列何者？ (A) 巴黎和會
(B) 開羅會議 (C) 雅爾達會議 (D) 聯合國大會
- (B) 6. 附圖是描繪中國某時期出現的情景，根據內容判斷，此圖最可能呈現下列何者？

- (A) 義和團事變 (B) 文化大革命 (C) 新文化運動
(D) 四川保路運動



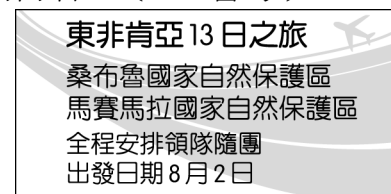
- (C) 7. 1950 年代起，美國因應共黨國家在東亞的擴張，聯合友好國家採取圍堵政策。請問：下列選項中，何者是圍堵政策的產物？
(A) 日本無條件投降 (B) 雅爾達密約
(C) 中美共同防禦條約 (D) 東南亞國家協會

二林高中 113 學年度第二學期 國二地理補考題庫

1. () 2016 年某原物料的國際價格不斷下跌，導致附圖中深色地區的經濟大受影響，因此該區的區域性經濟組織舉辦國際會議，達成共識以減緩經濟衝擊。請問：上述原物料最可能為何？



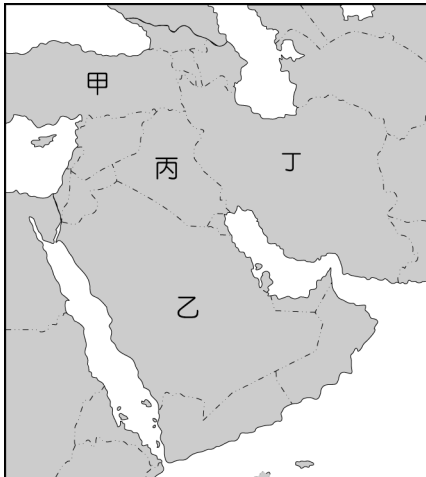
- (A) 黃金 (B) 石油 (C) 煤礦 (D) 椰棗。
2. () 附圖是雜誌上的旅遊廣告，該行程的主要特色最可能是下列何者？〔108.會考〕



- (A) 針葉林生態探索 (B) 峽灣海岸郵輪行 (C) 莽原動物大遷徙 (D) 葡萄酒莊體驗遊。
3. () 摩丹利公司要前往漠南非洲參訪當地的熱帶栽培業活動，以作為投資的參考依據。請問：這種農業類型主要分布於下列何處附近？
(A) 北回歸線 (B) 本初經線 (C) 赤道 (D) 東非大裂谷。
4. () 北非與西亞雖然分處兩大洲，但經常被畫分為同一地理區，這樣分類的主要考量，是該區各國大多具有下列哪一項共同特性？
(A) 高原地形 (B) 地震頻繁 (C) 水資源豐富 (D) 宗教信仰。
5. () 臺灣近年來引進的東南亞國際移工愈來愈多，每逢假日時，清真寺前主要聚集的多為哪一國的移工？
(A) 越南 (B) 印尼 (C) 泰國 (D) 寮國。

[背面尚有題庫]

6. () 漠南非洲某基金會在喀麥隆推動「棕櫚擊退貧窮」的活動，希望藉由廣植熱帶栽培業的方法，創造經濟利益，但成效不彰。請問：當地發展此活動時，最容易產生下列哪一項問題？
 (A)農場勞工不足 (B)族群衝突不斷 (C)糧食作物仰賴進口 (D)孳生病媒蚊蟲。
7. () 小說《倚天屠龍記》中傳說明教源自於西亞的波斯帝國，當時的波斯帝國即現在的伊朗，位於附圖中的哪一個地區？



- (A)甲 (B)乙 (C)丙 (D)丁。

答案:

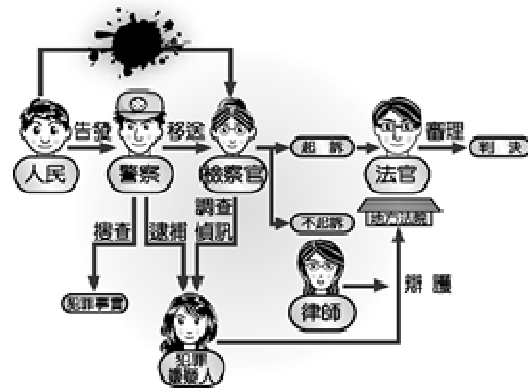
1.B 2.C 3.C 4.D 5.B 6.C 7.D

二林高中113學年度第二學期 國二公民補考題庫

- 1.() 民法是規定私人間日常生活上權利義務關係相關的法律，其大致可分為兩大領域，下列何者屬於《民法》規範的身分關係？
 (A)宇軒到學校附近的書局，添購開學所需的書籍
 (B)竣杰與馥偵愛情長跑7年，決定結婚共同走完下半輩子
 (C)受到流行病毒的影響，欣欣經營的餐廳生意慘淡，向好友借了100萬
 (D)偉仁將舊家租給好友恩霖，每月收取房租兩萬五千元
- 2.() 祐喜的哥哥祐晶在網路上購買電子鋼琴遭受詐騙，祐喜將國內糾紛調解的方式羅列給哥哥參考，希望對哥哥有所幫助。下列對於各種糾紛解決方式的舉例，何者正確？
 (A)和解：在調解委員協調下，肇事者支付5萬元給祐晶
 (B)訴訟上和解：肇事者在事故發生當下拿出5萬元獲得祐晶接受
 (C)調解：雙方在法官面前達成協議，不經判決解決糾紛
 (D)訴訟：判決書中載明被告必須要賠償祐晶5萬元
- 3.() 兆玄多次趁消費時詐騙某一店家財物，老闆不甘受騙報警處理。雖然兆玄遭逮後深表懊悔，並賠償店家損失達成和解，老闆也決定不提出告訴，但警方仍依法將他移送法辦，最後兆玄遭法

院判處罰金。上述兆玄與老闆達成和解，以及被法院判罰的部分，依序屬於下列何種類型？

- (A) 行政案件、告訴乃論的刑事案件
 (B) 民事事件、非告訴乃論的刑事案件
 (C) 行政案件、非告訴乃論的刑事案件
 (D) 民事事件、告訴乃論的刑事案件。
- 4.() 附圖是仲毅翻閱舊書時，看到有關訴訟程序的內容。由於墨漬遮蔽了部分文字，請協助仲毅判斷，下列何者最不可能是在遮蔽處的內容？



- (A) 告訴 (B) 公訴 (C) 告發 (D) 自訴
- 5.() 余姓男子於「行人保護時相」啟動之時，強行進入，警察依法開罰新台幣五百元，這個費用稱之為
 (A)沒收 (B)賠償 (C)罰金 (D)罰鍰
- 6.() 身為無敵國中學生的敏秀，向政府機關伸張其權力，依據《兒童及少年福利與權益保障法》的規定，哪一項不屬於保護措施？
 (A)各大超商不得販賣菸酒給未成年
 (B) 對早產兒、重病兒童及少年與發展遲緩兒童之扶養義務人無力支付醫療費用之補助，讓小朋友能健康長大
 (C)電視節目分為普通級、保護級、輔導級、限制級
 (D) 未滿18歲者不得於深夜(凌晨0時至5時)出入KTV
- 7.() 我國為了更全面地保護兒少的權益與福利，政府制訂許多相關法律，下列案件中的行為，所觸犯的法規，何者正確？
 (A)夾娃娃機業者在機台內擺放色情用品，且未禁止兒少夾取—《兒童及少年性剝削防制條例》
 (B) 托嬰中心業者沒有申請設立許可。就逕行從事兒童托育業務—《勞動基準法》
 (C) 經紀公司將17歲的少女帶去坐檯、陪酒—《兒童及少年福利與權利保障法》
 (D)物流業者雇用一名15歲少年，並讓該少年在夜間及凌晨工作—《勞動基準法》

答案:

BDBDD

BD